

Ш7011516

ВСЕРОССИЙСКАЯ ОЛИМПИАДА ШКОЛЬНИКОВ  
ОБЩЕСТВОЗНАНИЕ. 2024–2025 уч. г.  
ШКОЛЬНЫЙ ЭТАП. 11 КЛАСС  
Задания

Продолжительность – 2 академических часа (90 минут)  
Максимальный балл за всю работу – 100.

ПЕРВЫЙ ТУР

**Задание 1. Установите истинность или ложность суждений.**

Обозначьте «да» истинные суждения, «нет» – ложные. Ответы внесите в таблицу.

- 1.1. В современном мире более не существует абсолютных монархий.
- 1.2. Единственным источником власти в РФ является ее многонациональный народ.
- 1.3. Основным компонентом любой социальной роли является социальная санкция, следующая в случае её невыполнения.
- 1.4. Человек может играть несколько социальных ролей одновременно.
- 1.5. Товарами Гиффена называются товары, спрос на которые растёт даже при повышении цены на них.
- 1.6. От непредвиденного увеличения инфляции страдают заемщики капитала.
- 1.7. Вертикальная мобильность может осуществляться вопреки желанию человека.
- 1.8. Деятельность движения суфражисток является примером проявления гражданского общества.
- 1.9. В соответствии с прагматической концепцией истины, истина представляет собой результат соглашения между учеными.
- 1.10. В рыночной экономике невозможна ситуация, когда какой-либо товар продается по цене, меньшей, чем издержки его производства.

**Ответ:**

86	1.1 +	1.2 +	1.3 +	1.4 +	1.5 +	1.6 -	1.7 +	1.8 -	1.9 +	1.10 +
	нет	да	нет	да	да	да	да	нет	нет	нет

По 1 баллу за каждый верный ответ. Максимум за задание – 10 баллов.

**Задание 2.** Из приведенного перечня выделите полномочия, НЕ относящиеся к ведению Государственной Думы Федерального собрания РФ:

- А) осуществление помилования;
- Б) решение вопроса о доверии Правительству РФ;
- В) назначение выборов Президента РФ;
- Г) принятие федеральных законов;
- Д) утверждение указа Президента РФ о введении чрезвычайного положения;
- Е) назначение на должность и освобождение от должности Председателя Центрального банка РФ;
- Ж) утверждение изменения границ между субъектами РФ;
- З) назначение на должность и освобождение от должности Председателя Счетной палаты и половины от общего числа аудиторов Счетной палаты по представлению Президента Российской Федерации;
- И) утверждение по представлению президента Российской Федерации кандидатуры Председателя правительства Российской Федерации;
- К) назначение на должность и освобождение от должности Уполномоченного по правам человека.

56

**Ответ:** А В Д Ж З

По 1 баллу за каждый верный ответ. Максимум за задание – 5 баллов.

**Задание 3.** Замените выделенный курсивом фрагмент фразы соответствующим ему обществоведческим термином.

- А) В современной экономике особое значение приобретает деятельность *небольших предприятий, специализирующихся на создании и внедрении в производство новейших образцов техники и технологий, сопряженная с серьезным экономическим риском.*
- Б) Принято считать, что начало научному исследованию *процесса возникновения и развития человека как социального существа* было положено в XIX веке.
- В) Наличие развитой системы *целостного представления о мире и месте в нем человека, а также обусловленных этими представлениями убеждений, идеалов и ценностей* свидетельствует о зрелости личности.

**Ответ:**

- А) \_\_\_\_\_
- Б) Антропосоциология +

В) ~~Задание~~ Мировоззрение +  
 По 1 баллу за каждое правильно записанное слово. Максимальная оценка - 3 балла.

(25)

#### Задание 4. Решите логическую задачу.

Во время урока учитель Аркадий Петрович раздал школьникам самостоятельные работы. Один из школьников, Иван, оказался озадачен выставленной оценкой. Он обратился к учителю, чтобы оспорить поставленную ему оценку, на что тот резонно заметил, что во фрагменте рассуждений, представленных учеником в его работе, пропущено заключение, которое теперь Ивану нужно восстановить. Вот этот фрагмент:

**Каждый математик быстро и точно считает. Некоторые образованные люди не могут быстро и точно считать.**

«Помните, что в любом вашем суждении имеются части – логическое подлежащее и логическое сказуемое. Логическое подлежащее (субъект) – это то, о чём идёт речь в суждении; логическое сказуемое (предикат) – это то, что говорится о логическом подлежащем», – сказал учитель. «А ещё связь между логическим подлежащим и логическим сказуемым заключения обосновывается в посылках», – подхватил Иван. «И, как мне думается, вы хотели сделать какой-то вывод относительно образованных людей», – предположил Аркадий Петрович. «Да, именно так», – подтвердил ученик.

Какое заключение пропустил Иван в своём рассуждении? Ответ обоснуйте.

Ответ: „Каждый математик быстро и точно считает, некоторые образованные люди не могут быстро и точно считать.“ Это значит не все образованные люди математики, а значит это каждый математик образованный человек, однако очевидно, что не все образованные люди являются математиками. Следовательно понятие „образованный“ не равно понятию „математик“.

(26)

Максимум за задание – 8 баллов.

**Задание 5. Каждый человек живущий в большом городе должен знать Правила дорожного движения. Выберите (перечеркните крестом) юридически верное завершение утверждения:**





Утверждение	Возможные варианты завершения		
<p>Установленный факт употребления водителем вызывающих алкогольное опьянение веществ определяется наличием в его организме абсолютного этилового спирта в концентрации, превышающей:</p>	<p>0,10 миллиграмма на один литр выдыхаемого воздуха</p>	<p><del>0,16 миллиграмма на один литр выдыхаемого воздуха</del></p>	<p>0,25 миллиграмма на один литр выдыхаемого воздуха</p>
<p>Владелец транспортного средства обязан возместить вред, причинённый этим транспортным средством, если не докажет, что вред возник:</p>	<p>исключительно вследствие непреодолимой силы</p>	<p><del>исключительно вследствие умысла потерпевшего</del></p>	<p><del>вследствие непреодолимой силы или умысла потерпевшего</del></p>
<p>Административная ответственность установлена за нарушение Правил дорожного движения или правил эксплуатации транспортного средства, повлекшее причинение:</p>	<p>легкого вреда здоровью человека либо незначительного материального ущерба</p>	<p><del>легкого или средней тяжести вреда здоровью человека</del></p>	<p>легкого или средней тяжести вреда здоровью человека либо материального ущерба</p>
<p>Уголовная ответственность предусмотрена за управление транспортным средством, не повлекшее причинение тяжкого вреда здоровью или смерть человека, лицом, находящимся в состоянии опьянения, если оно ранее было подвергнуто административному наказанию:</p>	<p>за управление транспортным средством в состоянии опьянения</p>	<p>за невыполнение законного требования уполномоченного лица о прохождении медицинского освидетельствования на состояние опьянения</p>	<p><del>за совершение любого из перечисленных правонарушений</del></p>



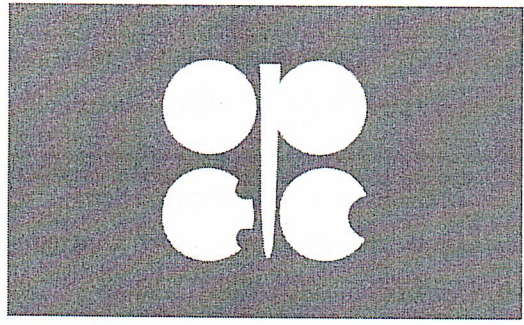





Максимальная оценка за задание – 4 балла, верный ответ без решения оценивается в 2 балла.

**Задание 7. Соотнесите названия международных организаций и их эмблемы.**

1. Всемирная организация интеллектуальной собственности
2. Шанхайская организация сотрудничества
3. Организация стран - экспортёров нефти
4. Международное агентство по атомной энергии
5. Всемирная организация здравоохранения
6. Всемирная метеорологическая организация
7. Совет государств Балтийского моря
8. Организация Договора о коллективной безопасности
9. Организация по безопасности и сотрудничеству в Европе
10. Содружество Независимых Государств

<p><del>А.</del></p> 	<p><del>Б.</del></p> 
<p>В.</p>  <input data-bbox="368 1803 580 1892" type="text"/>	<p>Г.</p> 

<p><del>Д.</del></p> 	<p><del>Е.</del></p> 
<p>Ж.</p> 	<p><del>З.</del></p> 
<p><del>И.</del></p> 	<p><del>К.</del></p> 

Ответ:

38.

1 +	2 +	3 -	4 -	5 -	6 -	7 -	8 -	9 -	10 +
К	Б	А	З	И	Ж	Г	Е	В	А

По 1 баллу за каждый верный ответ. Максимум за задание – 10 баллов.

**Задание 8. Вставьте пропущенное слово**

- А. Философское учение, утверждающее опыт в качестве приоритетного способа получения знаний - ...
- Б. Отношения между усыновителем и усыновлённым, бабушкой и внуками регулируются нормами ... права.
- В. Нормы ... состоят из гипотезы, диспозиции и санкции и подразделяются на императивные и диспозитивные.

Г. Форма социальной общности, когда люди, её составляющие, проживают вне страны происхождения, но сохраняют идентичность со своей Родиной, образуют сплочённые и устойчивые этнические группы, называется ...

Д. Социальная роль представляет собой динамическую характеристику ..., особенности исполнения предписываемых ... действий конкретным человеком.

Е. Наиболее часто встречающийся в конкретном обществе тип личности обозначается термином ... личность.

Ж. Сознание является непосредственным продолжением и наиболее сложной формой проявления такого всеобщего свойства материи как ...

З. «... мира» - это сложившаяся на конкретном этапе развития человечества совокупность представлений о структуре окружающей человека действительности, способах её функционирования и развития.

И. Карл Маркс считал, что ... стоимость – стоимость, создаваемая неоплаченным трудом рабочего сверх стоимости его рабочей силы и безвозмездно присваиваемая капиталистом.

К. Смещение кривой производственных возможностей ... наблюдается в период экономических кризисов, спадов производства, структурных кризисов.

Ответ:

- А. Этника +
- Б. Самейного +
- В. Раса +
- Г. Общественный -
- Д. Идентичности -
- Е. Среднее -
- Ж. Утилитарная -
- З. Культура +
- И. Реальная -
- К. Структурный -

46

По 1 баллу за верный ответ, всего 10 баллов.

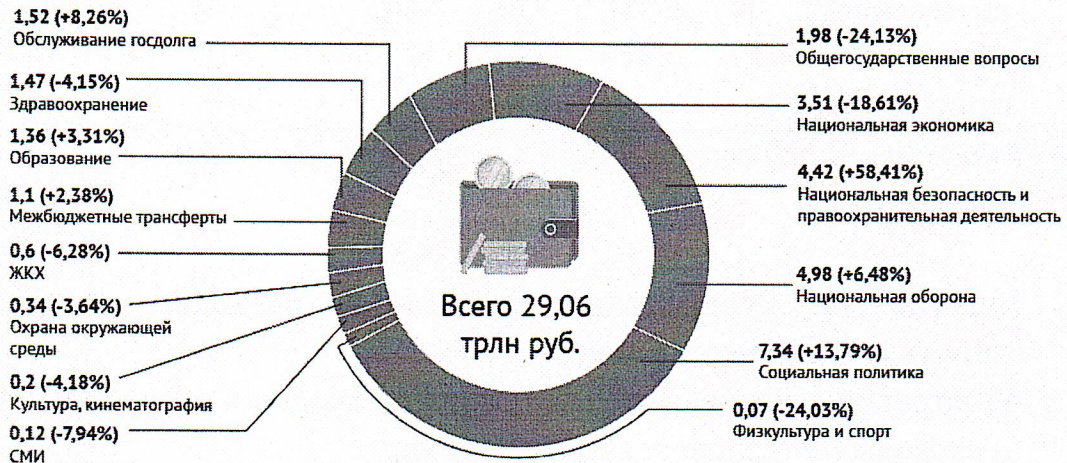
**Задание 9.** Проанализируйте данные инфорграфики, предоставленные крупнейшей еженедельной общественно-политической газетой России. На их основе оцените верность представленных в таблице утверждений. Свой ответ кратко обоснуйте.



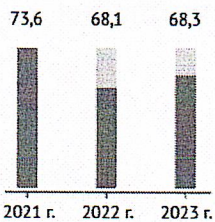
# Проект федерального бюджета-2023 в цифрах



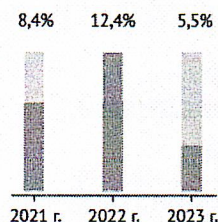
## Какие будут расходы в 2023 г. (трлн руб., % по сравнению с 2022 г.)




Курс рубля к доллару США



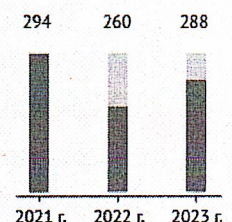
Инфляция



Экспорт (млрд долл.)



Импорт (млрд долл.)



Источник: Проект бюджета на 2023 год и плановый период 2024 и 2025 годов

Утверждение	Верно или нет	Обоснование
ФБГУ «Российская газета» опубликовавшая данную инфографику для продвижения информации так же использует социальные	Верно	Ввиду упол. ссылки на них

сети, мессенджеры и интернет.		
По сравнению с 2021 годом в 2022 году импорт сократился на 34 млрд. руб.	<i>неверно + верно</i>	<i>Он сократился на 34 млрд. долларов. +</i>
Расходы государственного бюджета на правоохранительную деятельность в 2023 менялись не существенно.	<i>неверно +</i>	<i>Он вырос на 50% тем же 50% процентов (на 58,41%). +</i>

(45)

1 балл за верный ответ, 1 балл за верное обоснование.  
Всего 6 баллов.

**Задание 10.** Распределите указанные расходы по двум группам, озаглавьте каждую из них.

- А) затраты на техническое обслуживание машин и оборудования;
- Б) расходы на транспортировку товаров;
- В) оплата труда производственных рабочих;
- Г) оплата труда управляющего персонала предприятия;
- Д) оплата электроэнергии, используемой для приведения в действие производственного оборудования;
- Е) арендная плата за пользование зданиями;
- Ж) расходы на приобретение сырья;
- З) расходы на обеспечение охраны предприятия;
- И) оплата услуг телефонной и Интернет-связи.

**Ответ:**

<i>25 постоянные +</i>	<i>временные +</i>
<i>15 В Г Е З</i>	<i>А Б Д Ж И</i>

(36)

2 балла за указание верного названия групп, 4 балла – при отсутствии ошибок в распределении. 3 балла - при ошибке в распределении одного элемента. 2 балл – при ошибке в распределении 2-3 элементов. 1 балл – при ошибке в распределении 4-5 элементов.

Максимальная оценка за задание – 6 баллов.

## ВТОРОЙ ТУР

**Задание 11. Прочитайте выдержки из статьи опубликованной на официальном сайте Московской городской организации КПРФ и ответьте на вопросы.**

Ровно 100 лет назад в книге «\_\_\_\_\_», как высшая стадия капитализма», которую изучали в Советском Союзе во всех вузах, В.И. Ленин выявил пять основных экономических признаков \_\_\_\_\_ как «высшей» и «последней» стадии капитализма. Это:

- 1) Концентрация производства и капитала, дошедшая до такой высокой ступени развития, что она создала монополии, играющие решающую роль в хозяйственной жизни.
- 2) Слияние банкового капитала с промышленным и создание на базе этого «финансового капитала» финансовой олигархии.
- 3) Более важное значение вывоза капитала по сравнению с вывозом товаров.
- 4) Образование международных монополистических союзов капиталистов, осуществляющих передел мира.
- 5) Конец территориального раздела земли крупнейшими капиталистическими державами. <...>

Сегодня изменился каждый из пяти экономических признаков \_\_\_\_\_. Но приглядимся повнимательнее к четвертому, наиболее актуальному сегодня признаку — как выясняется, самому небезопасному для мира. Этому признаку посвящена пятая глава книги, которая называется «Раздел мира между союзами капиталистов». Глава начинается следующими словами: «Монополистические союзы капиталистов, картели, синдикаты, тресты, делят между собою, прежде всего, внутренний рынок, захватывая производство данной страны в своё, более или менее полное, обладание. Но внутренний рынок, при капитализме, неизбежно связан с внешним. Капитализм давно создал всемирный рынок. И по мере того, как рос вывоз капитала и расширялись всячески заграничные и колониальные связи и «сферы влияния» крупнейших монополистических союзов, дело «естественно» подходило к всемирному соглашению между ними, к образованию международных картелей». <...>

Пожалуй, наиболее важный политический вывод, который содержится в анализе Лениным четвертого экономического признака \_\_\_\_\_, заключается в том, что международные картели представляют собой угрозу для мира, являются источниками войн. <...>

11.1 Какой термин пропущен в тексте:

Ответ: \_\_\_\_\_ Глобализация \_\_\_\_\_

*Правильный ответ 2 балла.*

11.2 На основе первого признака, выделенного В.И. Лениным, назовите пример современных международных монополий

Ответ: \_\_\_\_\_

*Правильный ответ 2 балла.*

11.3 В тексте упомянуты такие монополистические союзы капиталистов как картели, синдикаты, тресты дайте определение каждого из них.

Картель:

\_\_\_\_\_

\_\_\_\_\_

\_\_\_\_\_

Синдикат:

\_\_\_\_\_

\_\_\_\_\_

\_\_\_\_\_

Трест:

\_\_\_\_\_

\_\_\_\_\_

\_\_\_\_\_

*Каждое правильное определение 2 балла. Всего 6 баллов.*

11.4 Какая «более современная» форма монополистического союза не упомянута в тексте? Дайте её название и определение.

Ответ: *Транснациональная корпорация — компания, которая располагает свои филиалы по всему миру, продукция которой производится не в той же стране где головной офис.*

05

*Правильно названная форма – 2 балл, правильное определение 2 балла. Всего 4 балла.*

11.5 В тексте содержится утверждение о том, что международные картели представляют собой угрозу для мира, являются источниками войн. Согласны ли вы с этим утверждением? Свой ответ обоснуйте. Приведите два факта в подтверждение.

Обоснование:

Да, со мной. Так как международные картели отрицательно влияют на национальные экономики других стран.

Факт 1:

Международные картели закрывают внутренний рынок страны и не впускают на него отечественных производителей.

Факт 2:

Картель может искусственно повысить цены на свои товары.

Логически верное обоснование – 2 балла, корректно приведенный факт – 2 балла. Всего 6 баллов.

11.6 Спрогнозируйте дальнейшее развитие капитализма. Назовите две позитивных и две негативных черты возможного развития.

Позитивные черты.

1) Транснациональные корпорации, выйдя свои производства в бедные страны, будут создавать там рабочие места, способствуя росту благосостояния граждан.

2) Дальнейшее развитие глобализации позволит людям из разных стран проводить совместные мероприятия, развивая тем самым научно-технологический прогресс.

Негативные черты.

1) В дальнейшем обещано потребление, порождённое капитализмом, продолжит истощать

и ток ограниченные ресурсы Земли, это провоцирует новую войну за ресурсы.

2) Программы политики неоколониализма развитыми капиталистическими странами приводит к дальнейшему обнищанию "стран третьего мира", это обостряет международный и внутренний кризисы.

85

За каждую уместную логически обоснованную черту – 2 балла.  
Всего 8 баллов.

Максимальная оценка за задания Второго тура – 28 баллов.

Работа проверена членами жюри:

атф (Журавлев А.И.)

Л (Лавасюк Р.А.)